




Spaziergang durch Flaurling

Placed by: sonnenplateau

Placed Date: 03/14/2012

N 47° 17.433 E 011° 07.257

UTM: 32T E 660367 N 5239634

Size:  (Regular)Difficulty: Terrain: Log Counts:  17 Found it  1 Publish Listing

Long Description



Liebe Cacher-Gemeinde!

Wir haben uns den Kulturguide der Gemeinde Flaurling zum Anlass genommen, um euch durch diese nette Ortschaft nahe Telfs im Tiroler Inntal zu führen. Der Ort wurde ursprünglich von den Bajuwaren besiedelt und wird erstmals im 7. Jahrhundert nach Christus erwähnt. Unser Rundgang durch Flaurling führt uns an verschiedenen historischen Bauwerken wie dem Risschloss vorbei.

Für die Runde müsst ihr etwa 1 bis 1,5 Stunden Gehzeit einplanen.

Parkmöglichkeiten gibt es bei:

N 47°17.433
E 011°07.257

Erbhof beim Müller

Das Haus wurde erstmals Anfang des 17. Jahrhunderts erwähnt. 1894 wurde der dort wohnende Müllermeister zum Amtsinhaber des Post- und Telegrafenamts bestellt.

N 47°17.436
E 011°07.338

Wie viele runde Fenster zieren die Hausfront?

A=

Dorfbrunnen

Den Dorfbrunnen ziert eine Statue des heiligen Isidor, dem Schutzpatron der Bauern und Landwirte.

N 47°17.445
E 011°07.408

Welche Farbe haben die Kniestrümpfe der Statue?

Grün (B=7)

Weiß (B=8)

Blau (B=5)

B=

Ein ehemaliger Umschlagplatz für Salz und ein wichtiges Kornlager

Das Gebäude mit seinen Nebengebäuden spielte eine wichtige Rolle als Salzumschlagplatz und als Kornlager. Außerdem war früher eine Pferdewechselstation für Kuriere eingerichtet.

N 47°17.433
E 011°07.515

Bilde die einstellige Ziffernsumme der Jahreszahl auf dem Gebäude und addiere 2.

C=

Mittelalterlicher Wehrturm

Das Gebäude „beim Schlässler“ wurde ursprünglich im 13. Jahrhundert als Wehrturm errichtet. Ab 1398 erweiterte das Stift Sams den Turm nach Norden. Das Kloster ließ das Anwesen über 170 Jahre von verschiedenen Pächtern bewirtschaften.

N 47°17.485
E 011°07.450

Bilde die einstellige Ziffernsumme der höchsten Jahreszahl am Haus

D=

Schild

Noch vor der Brücke findet ihr ein Schild, das euch den nächsten Hinweis gibt. Nehmt dann die Brücke über den Bach und sucht den nächsten Wegpunkt auf.

N 47°17.597
E 011°07.204

Wie viele große 1 siehst du?

E=

Wegweiser

Hier findest du den vorletzten Hinweis auf den Schatz.

N 47°17.352
E 011°07.047

Welcher bekannte Pilgerweg wird hier erwähnt? Zähle die Buchstaben des Namens (ohne Tirol) und notiere dir die Zahl.

F=

Denkmal

Direkt vor dem Risschloss findet sich ein Denkmal anlässlich eines besonderen Jubiläums. Das Risschloss wurde als Jagdschloss von Sigmund dem Münzreichen errichtet und thront wie eine Burg über Flaurling. 1496 erhielt sein Hofkaplan der Pfarrer Sigmund Ris das Schloss als Geschenk.

N 47°17.408
E 011°07.198

Anlässlich welchen Regierungsjubiläums wurde der Gedenkstein errichtet? Bilde die einstellige Ziffernsumme.

G=

Die Gartenanlage des Risschlosses ist einen Besuch wert. Einfach dem Bücherei-Schild folgen und du gelangst in den frei zugänglichen, schönen Innenhof.

Final

N 47°DC.(B-G)(F-A)(A+D+E)

E 011°(C-E-A)(F-A).(B+D)(G+E-1)B/4

Der Erstfinder des Schatzes erhält eine Erstfinderurkunde, wenn er ein Foto von sich und dem Cache macht und an die Adresse: office@presstexter.at schickt.

Additional Hints

In einer kleinen Höhle; unter Steinen

Decryption Key [[Encrypt](#)]

A|B|C|D|E|F|G|H|I|J|K|L|M

N|O|P|Q|R|S|T|U|V|W|X|Y|Z



Additional Waypoints

Präfix	Suchen	Name	Koordinaten
<input type="checkbox"/>		FN FINAL GC3EHHE Final (Final Location)	???
Note: Errechne die Final-Koordinaten wie folgt: N 47°DC.(B-G)(F-A)(A+D+E)			
E 011°(C-E-A)(F-A).(B+D)(G+E-1)(B/4)			
<input type="checkbox"/>		PK PARKNG GC3EHHE Parking (Parking Area)	N 47° 17.433 E 011° 07.257
Note:			
<input type="checkbox"/>		S1 STAGE1 GC3EHHE Stage 1 (Stages of a Multicache)	N 47° 17.436 E 011° 07.338
Note: Wie viele runde Fenster zieren die Hausfront?			
A=			
<input type="checkbox"/>		S2 STAGE2 GC3EHHE Stage 2 (Stages of a Multicache)	N 47° 17.445 E 011° 07.408
Note: Welche Farbe haben die Kniestrümpfe der Statue? Grün (B=7)			

Weiß (B=8)



Blau (B=5)

B=

  S3 STAGE3 [GC3EHHE Stage 3](#) (Stages of a Multicache) N 47° 17.433 E 011° 07.515



Note: Bilde die einstellige Ziffernsumme der Jahreszahl auf dem Gebäude und addiere 2.

C=

  S4 STAGE4 [GC3EHHE Stage 4](#) (Stages of a Multicache) N 47° 17.500 E 011° 07.432



Note: Bilde die einstellige Ziffernsumme der höchsten Jahreszahl am Haus

D=

  S5 STAGE5 [GC3EHHE Stage 5](#) (Stages of a Multicache) N 47° 17.597 E 011° 07.204



Note: Wie viele große 1 siehst du?

E=

  S6 STAGE6 [GC3EHHE Stage 6](#) (Stages of a Multicache) N 47° 17.352 E 011° 07.047

Note: Welcher bekannte Pilgerweg wird hier erwähnt? Zähle die Buchstaben des Namens (ohne Tirol) und notiere dir die Zahl.

F=

  S7 STAGE7 [GC3EHHE Stage 7](#) (Stages of a Multicache) N 47° 17.408 E 011° 07.198

Note: Anlässlich welchen Regierungsjubiläums wurde der Gedenkstein errichtet? Bilde die einstellige Ziffernsumme.

G=

Attributes



[Was sind Attribute?](#)

available 24-7, bikes allowed, dogs allowed

Overview Map

[\[640x480\]](#) | [\[320x240\]](#)

Page Generated on 05/22/2012 08:59:13

Copyright © 2000-2012 [Groundspeak Inc.](#) All Rights Reserved.
Designated trademarks and brands are the property of their respective owners.
Use of this Web site constitutes acceptance of the [Groundspeak Terms of Use](#).